

ĐỀ DỰ TUYỂN ĐỊNH VỊ NĂNG LỰC ĐẦU VÀO LỚP 3
MÔN: TOÁN LOGIC
(Thời gian: 30 phút)

Số báo danh..... Tổng điểm...../30

Họ tên giáo viên chấm thi:..... Chữ kí:.....

I. Khoanh vào chữ cái đặt trước đáp án đúng hoặc làm theo yêu cầu:

Câu 1: Hoa chia kẹo cho 4 bạn, mỗi bạn được 3 cái kẹo thì vừa hết. Hỏi Hoa có bao nhiêu cái kẹo?

- A. 12 cái kẹo B. 7 cái kẹo C. 1 cái kẹo D. 10 cái kẹo


Câu 2: Hãy viết số nhỏ nhất có 3 chữ số khác nhau.

- A. 100 B. 987 C. 101 D. 102


Câu 3: Mẹ đưa cho Lan 10 quyển vở, Lan mang đến lớp 5 quyển vở và cho em 2 quyển vở. Hỏi ở nhà Lan còn mấy quyển vở?

- A. 17 quyển B. 3 quyển C. 13 quyển D. 7 quyển

Câu 4: Hãy khoanh vào $\frac{1}{3}$ số gấu bông trong hình dưới đây?

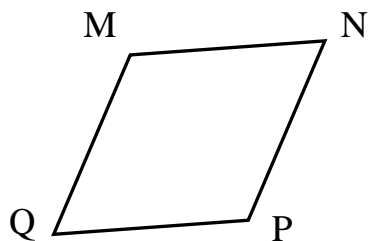


Câu 5: Câu nào sau đây mô tả đúng hình bên?



- A. Số hình tròn bằng số hình tam giác.
B. Số hình vuông ít hơn số hình tròn.
C. Số hình tam giác gấp đôi số hình tròn.
D. Số hình vuông nhiều hơn số hình tam giác.

Câu 6: Tính chu vi hình tứ giác MNPQ biết $MN = NP = PQ = QM = 4\text{cm}$.



- A. 16cm
B. 32cm
C. 6cm
D. 8cm

Câu 7: Tập phim hoạt hình “Tom và Jerry” có độ dài 60 phút. Nam bắt đầu xem phim lúc 8 giờ. Hỏi bạn Nam sẽ xem xong phim đó lúc mấy giờ?

- A. 6 giờ B. 7 giờ C. 8 giờ 6 phút D. 9 giờ

Câu 8: Điền dấu thích hợp vào chỗ chấm: $a \times 100 \dots\dots 99 \times a + a$

- A. > B. < C. = D. Không có dấu nào

II. Làm các bài tập sau:

Bài 1: Tìm x :

$$x + 9 = 87$$

$$x - 44 = 38$$

$$72 - x = 15$$

.....

.....

.....

.....

.....

.....

Bài 2: Điền số thích hợp vào chỗ chấm:

$$2\text{dm } 4\text{cm} = \dots\dots\dots\text{cm}$$

$$\frac{1}{4} \text{ giờ} = \dots\dots\dots\text{phút}$$

$$\frac{1}{2} \text{ ngày} = \dots\dots\dots\text{giờ}$$

$$45\text{cm} = \dots\dots\dots\text{dm } \dots\dots\dots\text{cm}$$

Bài 3: Đ/S?

$$3 \times 9 = 21 \quad \square$$

$$4 \times 8 \times 0 = 0 \quad \square$$

$$24 : 3 = 8 \quad \square$$

$$20 : 4 + 1 = 5 \quad \square$$

Bài 4: Trong vườn có 38 cây cam, số cây bưởi nhiều hơn số cây cam là 6 cây

a) Hỏi trong vườn có bao nhiêu cây bưởi?

b) Hỏi trong vườn có tất cả bao nhiêu cây cam và bưởi?

Bài giải

.....
.....
.....
.....
.....

