

MẪU BÀI DỰ TUYỂN TOÁN LOGIC
ĐỊNH VỊ ĐẦU VÀO LỚP 4 (Thời gian: 30 phút)

A. Khoanh vào chữ cái đặt trước câu trả lời đúng nhất.

Câu 1: Tìm số nhỏ nhất trong các số sau: 42963; 44158; 43669; 44202:

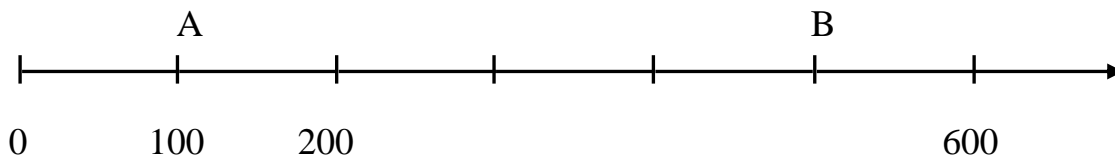
- A. 42963 B. 43669 C. 44158 D. 44202

Câu 2: Theo kế hoạch một tổ công nhân phải trồng 20496 cây, tổ đã trồng được $\frac{1}{8}$ số cây.

Hỏi theo kế hoạch, tổ đó còn phải trồng bao nhiêu cây nữa?

- A. 17943 cây B. 17934 cây C. 17493 cây D. 17935 cây

Câu 3: Trung điểm của đoạn thẳng AB ứng với số nào?

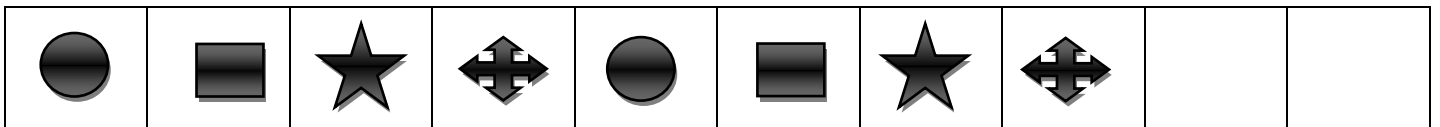


- A. 300 B. 400 C. 500 D. 550


Câu 4: Một hình chữ nhật chiều dài 25 m, chiều rộng 15 m. Chu vi hình chữ nhật đó là:

- A. 40m B. 80m C. 90 m D. 375m

Câu 5: Bạn Bình dán các hình theo quy luật sau:



Hỏi miếng dán nào sẽ được dán trong ô thứ 13?

- A.  B.  C.  D. 

Câu 6: Một hình vuông có chu vi là 108m . Tìm cạnh hình vuông đó.

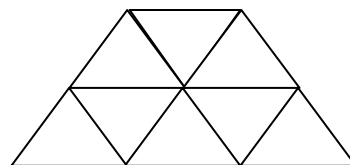
- A. 24m B. 25m C. 26m D. 27m

Câu 7: Cho biểu thức $69218 - 26736 : 3 = \dots$ Số cần điền vào dấu chấm là:

- A. 14160 B. 60306 C. 60603 D. 6306

Câu 8: Hình bên có tất cả bao nhiêu hình tam giác ?

- A. 10 B. 11
C. 12 D. 13



B. Làm các bài tập sau:

Bài 1: Đặt tính và tính:

a/ $3928 + 5936$

b/ $82362 - 3728$

c/ 3751×5

d/ $5880 : 8$

.....
.....
.....
.....

Bài 2: Điền Đúng (Đ) hoặc Sai (S) vào ô trống:

$8\text{m } 7\text{cm} = 807\text{cm}$

$9\text{kg } 5\text{g} = 95\text{g}$

$7\text{km } 18\text{m} = 718\text{m}$

$1\text{ tuần } 5\text{ ngày} = 12\text{ ngày}$

Bài 3: Có 48 cái cốc như nhau được xếp đều vào 6 hộp. Hỏi có 7176 cái cốc cùng loại thì xếp được vào bao nhiêu hộp như thế?

Bài giải

.....
.....
.....
.....
.....

Bài 4: Điền số thích hợp vào dấu chấm .

$\bigcirc = \triangle + \triangle + \triangle$

$\triangle + \bigcirc = 12$

$\bigcirc = \dots\dots$